



Zaprowadź chłopca do flagi tak, aby ominął przeszkody. Pod tabelką narysuj tę drogę za pomocą strzałek.

|  |  |  |  |  |  |
|--|--|--|--|--|--|
|  |  |  |  |  |  |
|  |  |  |  |  |  |
|  |  |  |  |  |  |
|  |  |  |  |  |  |





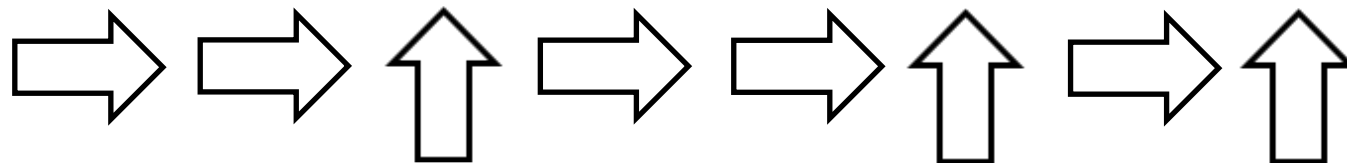
Zaprowadź dziewczynkę do flagi tak, aby ominęła przeszkody. Pod tabelką narysuj tę drogę za pomocą strzałek.

|  |  |  |  |  |  |
|--|--|--|--|--|--|
|  |  |  |  |  |  |
|  |  |  |  |  |  |
|  |  |  |  |  |  |
|  |  |  |  |  |  |





Zaprowadź chłopca do flagi zgodnie z kodem zamieszczonym pod tabelką.

|   |  |  |  |  |   |
|---|--|--|--|--|---|
|   |  |  |  |  |  |
|   |  |  |  |  |   |
|   |  |  |  |  |   |
|  |  |  |  |  |   |





Zaprowadź dziewczynkę do flagi zgodnie z kodem zamieszczonym pod tabelką.

|   |  |  |  |  |   |
|---|--|--|--|--|---|
|   |  |  |  |  |  |
|   |  |  |  |  |   |
|   |  |  |  |  |   |
|  |  |  |  |  |   |

